

Демонстрация итоговой контрольной работы за курс 1 класса

1. Какое время года изображено на картинке? Подчеркни верный ответ.

	<ul style="list-style-type: none">1) Лето2) Осень3) Зима4) Весна
---	---

2. Подчеркни названия предметов, которые относятся к **неживой** природе: камень, заяц, река, книга, ручка, ромашка, Солнце, петух.

3. Подчеркни группу, в которой перечислены только травянистые растения.

- 1) сирень, берёза, папоротник 3) крыжовник, смородина, дуб
- 2) ромашка, клевер, зверобой 4) подорожник, крапива, липа

4. К какой группе относятся щука, окунь, карась? Подчеркни верный ответ.

- 1) рыбы
- 2) насекомые
- 3) млекопитающие (звери)
- 4) птицы

5. Отметь ✓ того, кто умеет плавать.



Демонстрация итоговой контрольной работы за курс 2 класса

1 вариант

1. Что относится к **живой природе**?

- 1) птицы, рыбы, гусеницы, реки
- 2) насекомые, звери, растения, птицы
- 3) звери, облака, ящерицы, горы

2. Что относится к **неживой природе**?

- 1) скалы, дома, грибы, моря
- 2) реки, тучи, мебель, камни
- 3) океаны, воздух, горы, облака

3. Как называются животные, всё тело которых покрыто шерстью?

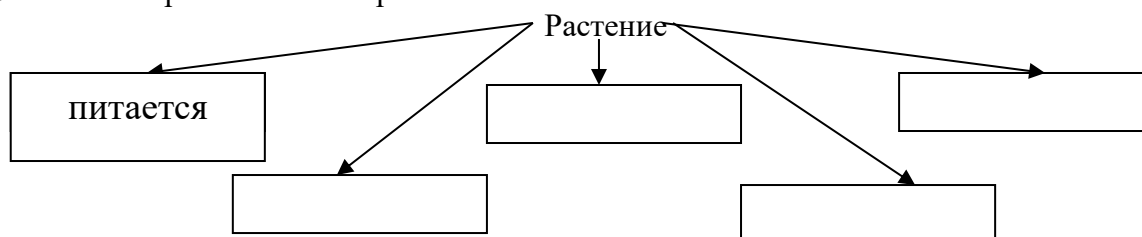
- 1) звери 2) насекомые 3) птицы

4. Солнце – это:
1) планета 2) звезда 3) метеорит
5. Без какого органа человек не может жить?
1) рука 2) глаз 3) сердце
6. Как правильно переходить проезжую часть?
1) бежать как можно быстрее
2) по пешеходному переходу
3) в том месте, где дорога узкая
7. Отметь правильный ответ. У человека
 1) 2 органа чувств 2) 6 органов чувств 3) 5 органов чувств
8. В какой строчке указаны только водоёмы?
1) болото, море, скала, река
2) ручей, океан, овраг, пруд
3) река, море, озеро, океан
9. Какое важное вещество образуется в листе вместе с питательными веществами?
 1) азот 2) углекислый газ 3) кислород
10. Какое растение зацветает ранней весной?
1) астра 2) мать – и – мачеха 3) ромашка
11. Выбери примету, которая не относится к весне:
1) появляются насекомые
2) перелётные птицы улетают в тёплые страны
3) воздух день ото дня становится всё теплее
12. Как называется столица России?
1) Нижний Новгород 2) Павлово 3) Москва
13. Соедини → части предложения
- | | |
|--|-------------------------|
| Машины, здания, посуда | Окружающий мир |
| Семья, класс, компания друзей, компания друзей | Сделано руками человека |
| Все, что находится вокруг нас на планете Земля | Общество |

2 вариант

1. Что относится к живой природе?
1) звери, облака, ящерицы, горы
2) птицы, рыбы, гусеницы, реки

- 3) насекомые, звери, растения, птицы
2. Что относится к неживой природе?
- 1) скалы, дома, грибы, моря
 - 2) океаны, воздух, горы, облака
 - 3) реки, тучи, мебель, камни
3. Подчеркни части растений.
- | | | | |
|---------|--------|--------|-------|
| лист | корень | цветок | ветка |
| стебель | плод | семена | травя |
4. Как называется место, где река берёт начало?
- 1) устье
 - 2) исток
 - 3) рукав
5. Без какого органа человек не может жить?
- 1) глаз
 - 2) сердце
 - 3) рука
6. Как правильно переходить проезжую часть?
- 1) в том месте, где дорога узкая
 - 2) бежать как можно быстрее
 - 3) по пешеходному переходу
7. Как называется прибор для определения сторон света?
- 1) термометр
 - 2) компас
 - 3) секундомер
8. В какой строчке указаны только водоёмы?
- 1) река, море, озеро, океан
 - 2) ручей, океан, овраг, пруд
 - 3) болото, море, скала, река
9. Какой гриб является съедобным?
- 1) бледная поганка
 - 2) мухомор
 - 3) подосиновик
10. Отметь правильный ответ. В Солнечную систему входят:
- 1) 3 планеты
 - 2) 8 планет
 - 3) 12 планет
11. Выбери примету, которая не относится к весне:
- 1) перелётные птицы улетают в тёплые страны
 - 2) воздух день ото дня становится всё теплее
 - 3) появляются насекомые
12. Как называется столица России?
- 1) Калининград
 - 2) Москва
 - 3) Нижний Новгород
13. Напиши признаки жизни растений:



Демоверсия итоговой контрольной работы за курс 3 класса

1. Какие культуры выращивали крестьяне в своем хозяйстве?

- рожь лён гречиха овёс кукуруза
 рис пшеница ячмень хлопок

2. Почему рожь считалась главной кормилицей сельского жителя?

- из неё пекли самый вкусный хлеб она была самой надёжной культурой
 она была самой неприхотливой культурой

3. Какое домашнее животное крестьяне считали главной кормилицей?

- лошадь свинья овца корова курица

4. Какое домашнее животное крестьяне считали главной работницей?

- лошадь свинья овца корова курица

5. Чем занимались женщины в долгие зимние вечера?

- доили коров стирали пряли работали в огороде
 вышивали шили готовили еду ткали

6. Рассмотрите рисунки. Соедини стрелками орудие сельскохозяйственного труда с его названием.



плуг борона серп коса вилы соха грабли

7. Крестьянские мальчишки начинали трудиться рано. Соедини стрелками занятие с их возрастом.

ездили верхом на коне, водили коней на водопой 9 лет

работали с отцом в поле, ходили на охоту, ставили силки и стреляли из лука 14 лет

заменяли в хозяйстве отца 5 – 6 лет

8. Девочки тоже начинали трудиться рано. Соедини стрелками занятие с их возрастом.

пряла по-настоящему 6 лет

выполняла всю женскую работу по дому 13 – 14 лет

9. Продолжите предложение.

Крепостные крестьяне – люди, которые _____

10. В каком веке было отменено крепостное право?

- XV век XVII век XIX век XX век

11. Продолжи предложение.

Ремесло – это труд человека _____

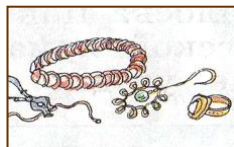
12. Как работали ремесленники в самом начале развития ремесла?

- по одному парами бригадой (артелью)

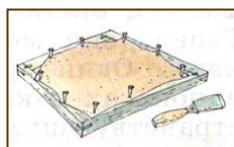
13. Где продавали свои изделия ремесленники?

- на дому на рынке на ярмарке в своих магазинах


14. Ремёсла в России XVII-XVIII веков. Соедини стрелками.



скорняжное ремесло, обработка кожи




работа с кожей, башмачное ремесло



обработка шерсти




строительные ремёсла

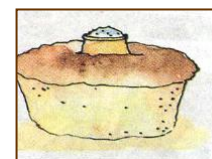


обработка льна

обработка дерева




обработка металла




гончарное дело

производство продуктов питания



ювелирное ремесло



15. В каком городе при археологических раскопках были найдены глиняные игрушки?

- Москва Сергиев Посад Великий Новгород Дымково

Демоверсия итоговой контрольной работы за курс 4 класса

1. На каком из рисунков герб Российской Федерации?



Прочитай текст и выполни задания №2-№4

У супругов Дарьи Владимировны и Валерия Григорьевича двое детей школьного возраста: старший сын Антон и дочь Наташа. Вся семья живет в Москве.

Ребята каждую неделю навещают своих бабушку и дедушку, которые живут на соседней улице. А Валерий Григорьевич всегда помогает родителям с покупками. Папа и Толя любят по выходным ездить на рыбалку. Наташа занимается теннисом, а мама увлекается вышиванием.

В семье хранится медаль, которую его предок по отцовской линии храбрость в сражениях Отечественной войны 1812 г. В этой войне народ одержал победу над вторгшейся на её территорию французской армией Бонапарта.



получил за
России
Наполеона

2. Выбери верное утверждение о семье Толи и Наташи.

- 1) У всех членов семьи одни и те же увлечения.
- 2) Вся семья много времени проводит на рыбалке.
- 3) Наташа ходит в школу, а Толя уже студент.
- 4) Младшие члены семьи заботятся о старших.

3. Укажи век, к которому относятся события войны России с армией Наполеона Бонапарта.

- 1) IXX век
- 2) XIX век
- 3) XVII век
- 4) XVIII век

4. Кем является отец Антона по отношению к людям, воевавшим в годы войны с армией Наполеона? Обведи номер ответа.

- 1) Участником событий, приведших к победе над армией Наполеона.
- 2) очевидцем героических подвигов русского народа в годы войны 1812 г.
- 3) свидетелем боевых сражений войны с армией Наполеона.
- 4) Потомком одного из героев Отечественной войны 1812 г.

5. Выбери правило, которое необходимо соблюдать пешеходам для безопасного движения по улице.

- 1) Быстро перебежать улицу возле знака
- 2) Переходить проезжую часть возле знака
- 3) Останавливаться на отдых в местах, обозначенных знаком
- 4) Двигаться по проезжей части по знаку



6. Одни животные проводят время в спячке. Другие, сменив шерсть на более светлую, питаются сделанными заранее запасами. Эти явления характерны для

- 1) птиц зимой
- 2) насекомых осенью
- 3) зверей зимой
- 4) рыб осенью

7. Выбери из приведенного ниже списка слов и словосочетаний те, которые обозначают явления природы. Обведи все верные ответы.

- А. тушение пожара
- Б. извержение вулкана
- В. изготовление асфальта
- Г. землетрясение
- Д. подножие холма
- Е. выпадение дождя



8. В лесу на пне Костя обнаружил съедобные грибы и сфотографировал. Какие грибы изображены на фотографии?

- 1) Опята
- 2) Подосиновики
- 3) Лисички
- 4) Маслята

9. Какое полезное ископаемое представляет собой маслянистую жидкость почти черного цвета, которую добывают при помощи буровых установок?

Запиши ответ:

10. Весной по берегам прудов и болот можно часто увидеть яркие желтые цветы калужницы болотной. Ниже приведен перечень свойств этого растения. Выбери из них те, которые относятся к **внешнему виду** калужницы. Обведи буквы **всех** верных утверждений.



А. Цветки калужницы яркого желтого цвета.

Б. Цветет калужница обычно в мае.

В. Калужницы ядовиты для домашних животных.

Г. Листья калужницы по форме напоминающие сердечко.

Д. Растет калужница по берегам рек и озер.

Е. Калужница – многолетнее растение.

11. Перед тобой названия пяти животных:

щука, майский жук, акула, кузнечик, стрекоза

Запиши названия этих животных в соответствующие клетки таблицы.

	Хищники	Растительноядные
Насекомые		
Рыбы		



12. Утром Катя посмотрела на термометр, висящий за окном. Какому из советов должна последовать Катя на основании показаний термометра?

- 1) На улице тепло, 22 градусов выше нуля. Можно собираться на речку купаться.
- 2) На улице холодно больше двадцати градусов мороза. Нужно одеться в зимнюю куртку и не забыть варежки.
- 3) Погода солнечная, но прохладно. Температура чуть выше нуля.
- 4) Термометр предупреждает, что погода в течение дня может испортиться и сильно похолодает.

13. Сережа проводил опыт с поваренной солью и водой. Он бросал в стакан с водой по 1 чайной ложке соли и следил за временем до ее полного растворения. В таблице представлены результаты его опыта.

Масса воды	Температура воды	Количество чайных ложек соли	Время, за которое вся соль растворилась в воде
200 г	10°	1	370 сек
200 г	40°	1	305 сек
200 г	50°	1	230 сек
200 г	70°	1	170 сек

Какое предположение проверял Сережа в своем опыте?

- 1) Сколько соли растворяется в воде при разной температуре
- 2) Чем выше температура воды, тем больше соли в ней растворяется.
- 3) Как зависит время растворения соли от температуры воды
- 4) Как зависит масса растворенной соли от температуры воды

14. Прочитай текст и вставь вместо пропусков номера нужных слов из приведенного ниже списка.

Пустыни

В пустынях нашей страны уже в апреле начинается лето, которое длится почти до ноября. Обычно в пустынях всюду много песка. Он образует холмы, которые здесь называют _____. Растения в пустыне растут поодиночке или небольшими группами среди песков и растрескавшейся глины. Это верблюжья колючка, песчаная осока, различные полыни. Привычных нам деревьев в пустыне нет. Лишь местами растет невысокое дерево с извилистым стволом – _____.

Животный мир пустынь небогат. Многие животные днем спят в норах, а активны ночью или на лето залегают в спячку. В пустынях встречается много пресмыкающихся – _____ и ядовитых змей. Живут здесь _____, которые питаются растительной пищей, а на день забираются в норы.

- | | | |
|--------------|---------------|------------|
| 1. саксаул | 4. барханы | 7. ящерицы |
| 2. бересклет | 5. тушканчики | 8. лягушки |
| 3. фьорды | 6. верблюды | |